

සුවේන් පෙරට
 e - ඉගෙනුම් පියස
 මිනුවන්ගොඩ
 අධ්‍යාපන කලාපය




දෙවන වාරය		
ශ්‍රේණිය : 1 ශ්‍රේණිය	විෂය : ගණිතය	පාඩම : 4 සිට 6 තෙක් සංඛ්‍යාංක හඳුනා ගැනීම හා භාවිතය
මිනු/අස්ගිරි වල්පොල ප්‍රාථමික විදුහල - පී. පී. මල්කාන්ති අබේරත්න		

4 පාඩම - 4 සිට 6 තෙක් සංඛ්‍යාංක හඳුනා ගැනීම හා භාවිතය පෙර සුදානම



- මල් එකක් , මල් දෙකක් , මල් තුනක් , මල් හතරක් , මල් පහක් සහ මල් හයක් සහිත කාඩ් හයක්
- එකේ සිට හය දක්වා ඉලක්කම් ලියූ කාඩ් හයක් අවශ්‍ය වේ.

පැවරුම


- දුවේ, පුතේ ඔයාලා ළඟ තියෙන මෙන්න මේ කාඩ් එක අතට ගන්න. ඒකේ මල් කීයක් තියෙනව ද?




- මේකේ එක මලක් තියෙනවා නේද ? එහෙනම් අතට ගන්න බලන්න එකේ ඉලක්කම තියෙන සංඛ්‍යාපත. දැන් මල තියෙන කාඩ් එක ඉඳිරියෙන් “ 1 ” ඉලක්කම තියෙන සංඛ්‍යාපත තියන්න.




- දුවේ, පුතේ දැන් ඔයාලා ළඟ තියෙන මෙන්න මේ කාඩ් එක අතට ගන්න. ඒකේ මල් කීයක් තියෙනව ද?




- මේකේ මල් දෙකක් තියෙනවා නේද ? එහෙනම් අතට ගන්න බලන්න දෙකේ ඉලක්කම තියෙන සංඛ්‍යාපත. දැන් මල් තියෙන කාඩ් එක ඉඳිරියෙන් “ 2 ” ඉලක්කම තියෙන සංඛ්‍යාපත තියන්න.



- දුවේ, පුතේ දැන් ඔයාලා ප්‍රභව වියෙන මෙන් මේ කාඩ් එක අතට ගන්න. ඒකේ මල් කීයක් වියෙනව ද?



- මේකේ මල් තුනක් වියෙනවා නේද ? එහෙනම් අතට ගන්න ඔලන්ත තුනේ ඉලක්කම වියෙන සංඛ්‍යාපත. දැන් මල් වියෙන කාඩ් එක ඉදිරියෙන් “ 3 ” ඉලක්කම වියෙන සංඛ්‍යාපත වියන්න.



දැන් අපි හතර , පහ , හය යන ඉලක්කම් ඉගෙන ගනිමු

- දැවේ, පුනේ දැන් ඔයාලා බලන්න මේ කාඩ් එක දිහා. ඒකේ මල් කීයක් තියෙනව ද කියලා ගණන් කරන්න. ඒකේ මල් හතරක් තියෙනවා. ඔයාලාගේ මල් හතරක් තියෙන කාඩ් එකයි සංඛ්‍යාපතයි මේ විදිහට තියන්න.



- දැවේ, පුනේ දැන් ඔයාලා බලන්න මේ කාඩ් එක දිහා. ඒකේ මල් කීයක් තියෙනව ද කියලා ගණන් කරන්න. ඒකේ මල් පහක් තියෙනවා. ඔයාලාගේ මල් පහක් තියෙන කාඩ් එකයි සංඛ්‍යාපතයි මේ විදිහට තියන්න.



- දුවේ, පුතේ දැන් ඔයාලා බලන්න මේ කාඩ් එක දිහා. ඒකේ මල් කියක් තියෙනව ද කියලා ගණන් කරන්න. ඒකේ මල් හයක් තියෙනවා. ඔයාලාගේ මල් හයක් තියෙන කාඩ් එකයි සංඛ්‍යාපනයි මේ විදිහට තියන්න.



දුවේ , පුතේ අපි දැන් ඉලක්කම් ලියමු.

- ඉලක්කම ලියා ඇති ආකාරය හොඳින් බලා මුලින් ම කඩ ඉරිවල ලියා පසුව කොටුව තුළ ලියන්න.

හතර 4



4



4



4

① 4 ② ③ හතර නිවැරදිව ලියමු.

4	4	4		

පහ 5



5

5

5



පහ නිවැරදිව ලියමු.

5	5	5	5	5
5	5	5	5	5


හය 6




6

6


6

 හය නිවැරදිව ලියමු.



දුවේ , පුතේ අපි මේ වැඩ ටිකත් කරමු.

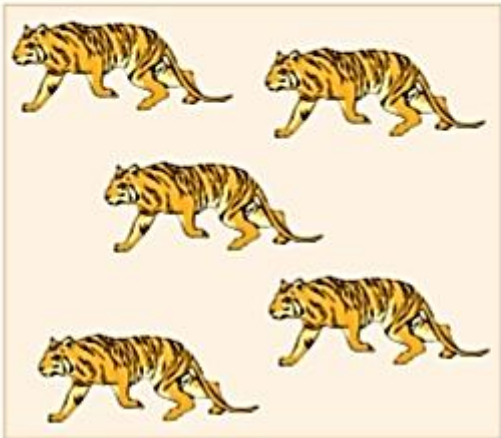
- ගැලපෙන පරිදි යා කරන්න.



හය
6



පහ
5



හතර
4

රූප ගණන් කර ඉලක්කමෙන් ලියමු.



2



ඉලක්කමට ගැළපෙන රූප අඳිමු.

2



3



5



පසු වැඩ

- හතරේ ඉලක්කම ලියා රූප හතරක් ඇඳ පාට කරන්න.
- පහේ ඉලක්කම ලියා රූප පහක් ඇඳ පාට කරන්න.
- හයේ ඉලක්කම ලියා රූප හයක් ඇඳ පාට කරන්න.
- ඔයාලා ළඟ තියෙන මල් කාඩ් හා සංඛ්‍යාපත් හයම පහත පරිදි අලවන්න.

